

Lösung zur
§17-Klausur Flugmechanik 1 SS99

Prof. Dr.-Ing. Dieter Scholz, MSME

Datum: 05.07.1999

1. Klausurteil

1.1) Die entsprechenden Bezeichnungen in deutscher Sprache lauten:

| | |
|----------------------|-----------------------------|
| gust | Böe |
| to yaw | gieren |
| to pitch | nicken |
| drag | Widerstand |
| lift-to-drag ratio | Gleitzahl |
| equation of motion | Bewegungsgleichung |
| ceiling | Gipfelhöhe |
| aileron | Querruder |
| piston | Kolben |
| descending flight | Sinkflug |
| to stall | überziehen |
| range | Reichweite |
| payload | Nutzlast |
| equilibrium | Gleichgewicht |
| tailplane | Höhenleitwerk |
| aspect ratio | Streckung |
| stick-free stability | Stabilität bei loseem Ruder |
| sideslip angle | Schiebewinkel |
| hinge moment | Scharniermoment |
| elevator | Höhenruder |
| load factor | Lastvielfaches |
| shaft power | Wellenleistung |
| angle of attack | Anstellwinkel |
| fuselage | Rumpf |

1.2) **Stratosphäre**

1.3) **30000 ft**

1.4) Das Flugzeug hebt bei einer Geschwindigkeit über Grund von 150 kt - 20 kt = **130 kt** ab.

Bei konstanter Beschleunigung gilt: $s = \frac{1}{2}at^2$ und $v = at$ und damit $s = \frac{v^2}{2a}$.

Die Startrollstrecke ist also proportional zum Quadrat der Geschwindigkeit. Das Verhältnis

der Startrollstrecke ist $\frac{s_{wind}}{s_{ohne\ wind}} = \frac{130^2}{150^2} = 0.751$. Die Startrollstrecke verkürzt sich demnach

auf etwa **75%**.

$$1.5) \quad q = \frac{1}{2}\rho v^2 = \frac{1}{2}\rho_0 v_E^2 \quad \text{damit ist} \quad v_E = v \cdot \sqrt{\frac{\rho}{\rho_0}} = 200 \text{ kt} \cdot \sqrt{\frac{1}{4}} = \mathbf{100 \text{ kt}}$$

$$1.6) \quad C_M = \frac{M}{\frac{1}{2}\rho v^2 \cdot S \cdot b}$$

Der Nickmomentenbeiwert wird aus dem Nickmoment berechnet, welches durch den Staudruck, die Flügelfläche und eine charakteristische Länge (hier: die Spannweite) geteilt wird.

$$1.7) \quad \text{Gleitzahl: } E = \frac{C_L}{C_D} = \frac{0.8}{0.04} = 20$$

$$1.8) \quad \eta_{\max} = 0.8$$

$$1.9) \quad \theta = \gamma + \alpha \quad \text{daraus:} \quad \gamma = \theta - \alpha = 30^\circ - 10^\circ = 20^\circ$$

1.10)

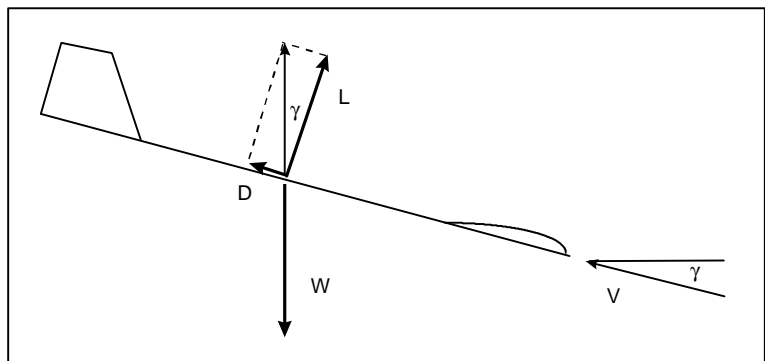
- Neutralpunkt bei festem Ruder und
- Schwerpunkt

1.11)

D : drag = Widerstand
 L : lift = Auftrieb
 W : weight = Gewicht
 V : Flugeschwindigkeit
 γ : Bahnneigungswinkel

$$\frac{D}{L} = \tan \gamma$$

$$E = \frac{L}{D} = \frac{1}{\tan \gamma}$$



2. Klausurteil (mit Hilfsmitteln - 150 Minuten - 55 Punkte)

Aufgabe 2.1 (9 Punkte)

- a) Mit der Vereinfachung, daß die geopotentielle Höhe etwa der geometrischen Höhe entspricht $H \approx h$:

$$\Delta t = -L \Delta H \approx -L \Delta h = -1.9812 \cdot 10^{-3} \text{ K / ft} \cdot 10000 \text{ ft} = -19.8 \text{ K}$$

$$t_{\text{Gletscher}} = t_{\text{MSL}} + \Delta t = 25^\circ \text{ C} - 19.8^\circ \text{ C} = 5.2^\circ \text{ C}$$

- b) Der Flugplatz liegt direkt am Meer (d.h. auf MSL = mean sea level). Ein Höhenmesser eingestellt auf QNH liefert die Höhe über MSL. Der Höhenmesser zeigt also 0 ft.
- c) Der Höhenmesser zeigt Druckhöhe h_p . Mit der Vereinfachung $H \approx h$:

Mit 25° C in Meereshöhe ist es 10° wärmer als nach der Standardatmosphäre: $\Delta T = +10 \text{ K}$

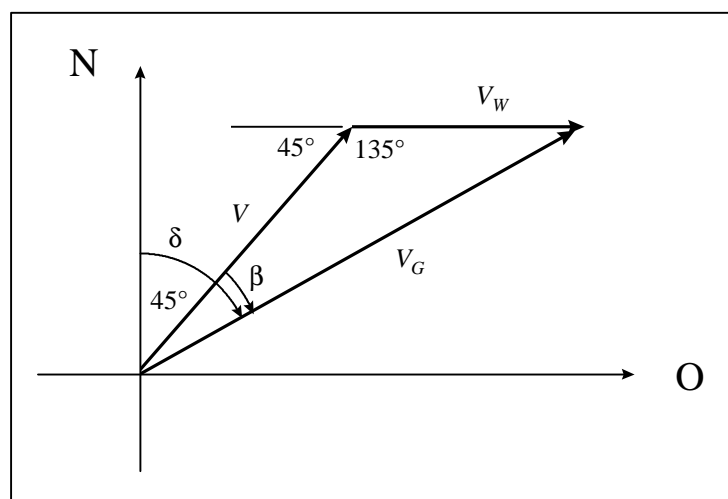
$$h_p = h \cdot \frac{T_0}{T_0 + \Delta T} = 10000 \text{ ft} \cdot \frac{288.15 \text{ K}}{288.15 \text{ K} + 10 \text{ K}} = 9665 \text{ ft}$$

Aufgabe 2.2 (12 Punkte)

- a) Nach dem Diagramm im Skript ist $\Delta V_C = 8 \text{ kt}$ und $V_E = V_C - \Delta V_C = 200 \text{ kt} - 8 \text{ kt} = 192 \text{ kt}$

In 39000 ft nach ISA-Tabelle: $\sqrt{\sigma} = 0.50822$

$$V = \frac{V_E}{\sqrt{\sigma}} = \frac{192}{0.50822} \text{ kt} = 378 \text{ kt}$$



- b) $V_G = \sqrt{V^2 + V_W^2 - 2 \cdot V \cdot V_W \cdot \cos \alpha} = \sqrt{378^2 + 30^2 - 2 \cdot 378 \cdot 30 \cdot \cos 135^\circ} = 400 \text{ kt}$

$$c) \quad \frac{\sin \alpha}{\sin \beta} = \frac{a}{b} \quad \text{hier:} \quad \frac{\sin 135^\circ}{\sin \beta} = \frac{V_G}{V_W} \quad \beta = \arcsin\left(\frac{\sin 135^\circ}{V_G / V_W}\right) = \arcsin\left(\frac{\sin 135^\circ}{400/30}\right) = 3^\circ$$

$$\delta = 45^\circ + \beta = 45^\circ + 3^\circ = 48^\circ$$

Der Kurs über Grund beträgt 48° .

Aufgabe 2.3 (9 Punkte)

Die folgende Tabelle zeigt eine mögliche Berechnungsreihenfolge an:

| maximaler Auftriebsbeiwert | Querneigungswinkel | |
|-------------------------------|----------------------|---|
| | 0° $n = 1$ | 30° $n = 1 / \cos 30^\circ = 1.155$ |
| 1,40 | II ← | I |
| 1,81 | ↓ III | ↓ IV |

$$\text{II aus I:} \quad V_{s,I} = V_{s,turn} / \sqrt{n} = 54 \text{ kt} / \sqrt{1.155} = 50.2 \text{ kt}$$

$$\frac{1}{2} \rho V_{II}^2 C_{L,II} S = \frac{1}{2} \rho V_{III}^2 C_{L,III} S$$

$$\text{III aus II:} \quad V_{III} = V_{II} \cdot \sqrt{\frac{C_{L,II}}{C_{L,III}}} = 50.2 \text{ kt} \sqrt{\frac{1.4}{1.81}} = 44.2 \text{ kt}$$

$$\text{IV aus I:} \quad V_{IV} = V_I \cdot \sqrt{\frac{C_{L,I}}{C_{L,IV}}} = 54 \text{ kt} \sqrt{\frac{1.4}{1.81}} = 47.5 \text{ kt}$$

Somit ergibt sich die vollständige Tabelle in folgender Form:

| maximaler Auftriebsbeiwert | Querneigungswinkel | |
|-------------------------------|--------------------|------------|
| | 0° | 30° |
| 1,40 | 50.2 kt | 54.0 kt |
| 1,81 | 44.2 kt | 47.5 kt |

Aufgabe 2.4 (7 Punkte)

a) Die Steiggeschwindigkeit verringert sich

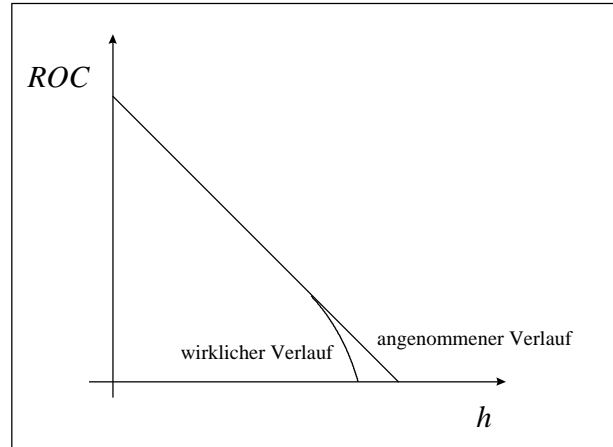
- 1.) von 0 ft auf 5000 ft um 670 ft/min - 470 ft/min also um 200ft/min
- 2.) von 5000 ft auf 10000 ft um 470 ft/min - 260 ft/min also um 210ft/min

Bei einer linearen Abnahme dürfte die Abnahme der Steiggeschwindigkeit bei 2.) auch nur 200 ft/min betragen. Dies soll hier zur Vereinfachung der Rechnung unterstellt werden. Die Steiggeschwindigkeit in 10000 ft wäre dann: **270 ft/min** .

$$b) \quad \frac{ROC}{ROC_0} = 1 - \frac{h}{h_{abs}} \quad 1 - \frac{ROC}{ROC_0} = \frac{h}{h_{abs}} \quad h_{abs} = \frac{h}{1 - \frac{ROC}{ROC_0}} = \frac{10000 \text{ ft}}{1 - \frac{270}{670}} = 16750 \text{ ft}$$

Die absolute Gipfelhöhe beträgt 16750 ft.

- c) Das nebenstehende Bild zeigt den angenommenen und den wirklichen Verlauf der Steigrate über der Höhe. Mit dem angenommenen linearisierten Verlauf wurde in b) also eine absolute Gipfelhöhe berechnet, die größer ist, als unter wirklichen Verhältnissen zu erreichen wäre. **Die absolute Gipfelhöhe wäre in Wirklichkeit also etwas geringer** als unter b) berechnet.



- d)

$$t_{CLB} = -\frac{h_{abs}}{ROC_0} \cdot \ln\left(1 - \frac{h}{h_{abs}}\right) = -\frac{16750 \text{ ft}}{670 \text{ ft/min}} \cdot \ln\left(1 - \frac{15750}{16750}\right) = 70.5 \text{ min}$$

Aufgabe 2.5 (18 Punkte)

Gegeben:

zusätzliches Lastvielfaches von einem g \Rightarrow

$$n_c = 1$$

Lastvielfaches \Rightarrow

$$n = 2$$

Schwerpunkt bei 30% MAC \Rightarrow

$$h = 0.3$$

"Neutralpunkt bei losem Ruder" bei 40% MAC \Rightarrow

$$h_N' = 0.4$$

"Manöverpunkt bei losem Ruder" (Abfangbogen, 2.) bei 50% MAC \Rightarrow

$$h_m' = 0.5$$

$$a) \quad n = 1 / \cos \phi \quad \phi = \arccos(1/n) = \arccos(1/2) = 60^\circ$$

$$b) \quad \text{Abfangbogen, 2.:} \quad \frac{\Delta P_\eta}{n_c} = -G_\eta W \frac{S_\eta}{S} \frac{c_\eta}{V'} \frac{b_2}{a_2} H_m'$$

$$\text{Kurvenflug, 1.:} \quad \frac{\Delta P_\eta}{n_c} = -G_\eta W \frac{S_\eta}{S} \frac{c_\eta}{V'} \frac{b_2}{a_2} (H_m')_{\text{um}}$$

- c) Beim Kurvenflug in der Vertikalebene hängt die Knüppelkraft pro g ab von $H_m' = h_m' - h$, also von der **Lage des Manöverpunktes bei losem Ruder (Abfangbogen, 2.)** und der **Lage des Schwerpunktes**.

d) Beim Kurvenflug in der *Horizontalebene* hängt die Knüppelkraft pro g ab von $(H_m')_{turn} = (h_m')_{turn} - h$, also von der **Lage des Manöverpunktes bei losem Ruder (Kurvenflug, 1.)** und der **Lage des Schwerpunktes**.

e) $h_m' - h_N' = 0.5 - 0.4 = 0.1$

Der Manöverpunkt bei losem Ruder (Abfangbogen, 2.) liegt 10% hinter dem Neutralpunkt bei losem Ruder.

f) $h_m' = h_N' + \frac{\bar{V}' a_1}{2 \mu_1}$ $h_m' - h_N' = 0.1 = \frac{\bar{V}' a_1}{2 \mu_1}$

$$(h_m')_{turn} = h_N' + \frac{\bar{V}' a_1}{2 \mu_1} \left(\frac{n_c + 2}{n_c + 1} \right) \quad (h_m')_{turn} - h_N' = \frac{\bar{V}' a_1}{2 \mu_1} \left(\frac{n_c + 2}{n_c + 1} \right) = 0.1 \left(\frac{1+2}{1+1} \right) = 0.15$$

$$(h_m')_{turn} = h_N' + 0.15 = 0.4 + 0.15 = 0.55$$

Der Manöverpunkt bei losem Ruder (Kurvenflug, 1.) liegt bei 55% MAC.

g) $(h_m')_{turn} - h = 0.55 - 0.3 = 0.25$

Der Manöverpunkt bei losem Ruder (Kurvenflug, 1.) liegt um 25% MAC hinter dem Schwerpunkt.

h) $(H_m')_{turn} = (h_m')_{turn} - h = 0.25$ $H_m' = h_m' - h = 0.5 - 0.3 = 0.2$

$$\frac{\left(\frac{\Delta P_\eta}{n_c} \right)_{turn}}{\frac{\Delta P_\eta}{n_c}} = \frac{-G_\eta W \frac{S_\eta}{S} \frac{c_\eta}{\bar{V}'} \frac{b_2}{a_2} (H_m')_{turn}}{-G_\eta W \frac{S_\eta}{S} \frac{c_\eta}{\bar{V}'} \frac{b_2}{a_2} H_m'} = \frac{(H_m')_{turn}}{H_m'} = \frac{0.25}{0.2} = 1.25$$

Unter den gegebenen Bedingungen ist die Knüppelkraft pro g im Kurvenflug um 25% größer als im Abfangbogen.